

Vous pouvez utiliser les images données en annexe ou d'autres images de votre choix à condition qu'elles soient claires et qu'elles aient trait à la vie quotidienne.



■ Documents pour la 2<sup>e</sup> partie de l'épreuve

<b>Nom ?</b>	<b>Lieu de travail ?</b>
<b>Adresse ?</b>	<b>Famille ?</b>
<b>Amis ?</b>	<b>Téléphone ?</b>
<b>Matin ?</b>	<b>Film ?</b>
<b>Vacances ?</b>	<b>Déjeuner ?</b>

**Chambre ?**

**Blond(e)**

**Message ?**

**Accident ?**

**Acteur ?**

**Billet de train ?**

**Chèque ?**

**Bouquet ?**

**Intéressant ?**

**Cadeau ?**

## ■ Documents pour la 3<sup>e</sup> partie de l'épreuve



20  
cents

20  
cents



50  
cents

50  
cents



1  
euro

1  
euro



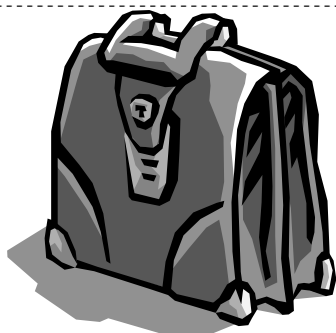
2  
euro  
s

2  
euro  
s



Dans une papeterie


Vous devez acheter des articles scolaires. Vous vous renseignez sur les prix, la qualité, vous choisissez des articles et vous payez.




50 €




Post-it 1 € pièce




gomme 0,40 l'unité




0,40 € l'unité




4 € le paquet de 100



0,65 € pièce



0,50 € l'unité



1 € le paquet de 25

**Chez le marchand de légumes**

**Vous faites vos courses au marché. Vous vous renseignez sur les prix, vous demandez plusieurs produits et vous payez.**



**pommes de terre 1,5 € le kg**



**carottes 0,90 € le kilo**



**chou-fleur 1,20 € pièce**



**salade 1,10 € pièce**



**1,45 € la pièce**



**pêches 1,60 le kilo**

Chez le marchand de journaux

Vous allez voyager et vous achetez plusieurs magazines pour lire dans l'avion. Vous demandez les prix et vous payez.



L'Etudiant 2,50 €



mensuel 4,5 €



Auto Moto 3,80 €



ELLE 2,70 €



Notre temps 3,10 €



Votre journal télé  
1,60 €

## A l'épicerie

Vous allez faire vos courses dans une épicerie. Vous vous renseignez sur les prix, vous demandez plusieurs produits et vous payez.



œufs 1,75 les 6



beurre 1,20 la plaque de 250g.



sucre 1,25 le kilo



lait 0,95 le litre



café 2,48 le paquet de 500g



Poulet rôti  
5,50 €

Dans un magasin de sports

Vous allez faire vos courses dans une épicerie. Vous vous renseignez sur les prix, vous demandez plusieurs produits et vous payez.



raquette de tennis



short 7 €



tee-shirt 5 €



22,50 €



25 €